

제 4 교시

# 사회탐구 영역(세계사)

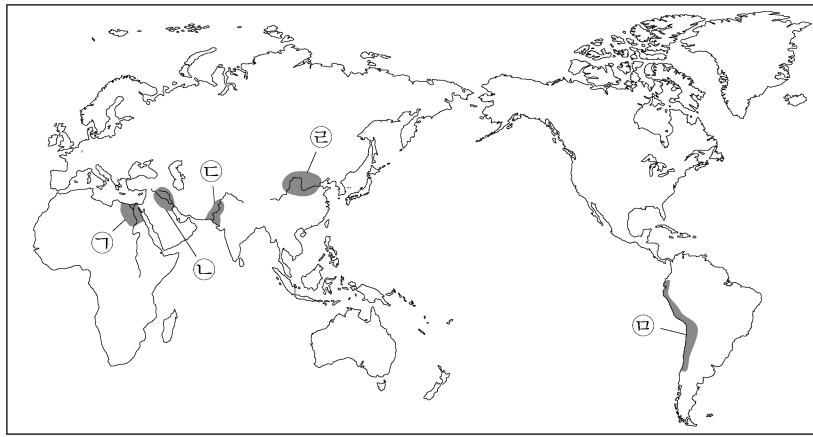
성명

수험 번호

제 [ ] 선택

1. (가) 문명의 발생 지역을 지도에서 옳게 고른 것은? [3점]

모헨조다로는 고대 (가)의 대표적인 유적지로, 크게 성채와 시가지로 구분되어 있다. 성채에는 대형 목욕탕과 창고 등이 있었고, 시가지에는 벽돌로 지은 주택들이 도로를 따라 들어서 있었다. 특히 정교한 배수 시설은 계획도시의 면모를 보여주고 있다.



- ① (가)
- ② (나)
- ③ (다)
- ④ (라)
- ⑤ (마)

2. (가) 황제의 재위 시기에 있었던 사실로 옳은 것은?

사진은 (가) 시기 흉노 토벌에 공을 세운 광거병의 묘지 앞 석상입니다. (가)은/는 근심거리었던 흉노를 공격하기 위해 대월지와 군사 동맹 체결을 도모하기도 했습니다.

▲ 흉노 병사를 밟고 있는 말의 석상

- ① 시박사가 설치되었다.
- ② 균전제가 실시되었다.
- ③ 양제법이 도입되었다.
- ④ 지정은제가 시행되었다.
- ⑤ 소금과 철이 전매되었다.

3. (가), (나) 시기 사이에 있었던 사실로 옳은 것은? [3점]

(가) 황제는 한 사람이 통치하기에 제국이 너무나 방대하다고 판단하였다. 그리하여 막시미아누스와 함께 제국을 둘로 나누어 통치하였다. 그럼에도 제국의 복잡한 문제가 해결되지 않자 두 황제는 아래에 각각 부황제를 두었다.

(나) 황제는 자신의 통치를 받는 모든 로마인과 속주민들에게 사도 베드로가 전파한 종교를 믿을 것을 명했다. 다른 종교를 믿는 것을 금지하면서 이를 어기는 자는 신의 벌을 받을 뿐 아니라 법에 따라 처벌될 것이라고 공포했다.

- ① 밀라노 칙령이 공포되었다.
- ② 제2차 삼두정치가 시작되었다.
- ③ 스파르타쿠스의 반란이 일어났다.
- ④ 유스티니아누스 법전이 편찬되었다.
- ⑤ 옥타비아누스가 아우구스투스 칭호를 받았다.

4. 밑줄 친 '건설'이 이루어진 왕조에 대한 설명으로 옳은 것은?

상서우승 황보의에게 명하길, 황허 강 남쪽과 화이허 강 북쪽에 사는 여러 군의 백성 일백여만 명을 징발하여 통제거를 건설하게 하였다. …(중략)… 화이허 강 남쪽에 사는 백성 십여만 명을 징발하여 산양에서 양자에 이르러 창장 강에 들어가는 한구를 건설하게 하였다. 그 옆에는 황제가 행차하는 길을 만들고 장안에서부터 강도에 이르기까지 황제가 머물 별장을 40여 곳에다 설치하였다.

- 『자치통감』 -

- ① 군기처를 설치하였다.
- ② 과거제를 시행하였다.
- ③ 만한 병용제를 채택하였다.
- ④ 북면관제와 남면관제를 운영하였다.
- ⑤ 절도사 세력을 약화시키고 중앙 금군을 강화하였다.

5. (가) 왕조에 대한 설명으로 옳은 것은? [3점]

세계사 신문

◀속보▶

**이슬람 군대, 이베리아 반도 장악**

수도 다마스쿠스를 중심으로 세력을 확장하던 (가)이/가 이베리아 반도를 장악했다. 무사 빈 누사이르가 이끄는 (가)의 군대가 서고트 왕국을 멸망시키고 피레네 산맥 남쪽까지 진출한 것이다. 이제 산맥 너머 서유럽 크리스티교 세계의 중심지까지 나아갈 수 있을지 귀추가 주목된다.

▲ 정복 활동의 주역, 무사 빈 누사이르


- ① 몽골 제국 부흥을 내세웠다.
- ② 칼리프의 지위를 세습하였다.
- ③ 콘스탄티노폴리스를 함락하였다.
- ④ 사산 왕조 페르시아를 멸망시켰다.
- ⑤ 탈라스에서 당의 군대를 격퇴하였다.

세계사

## 2 (세계사)

## 사회탐구 영역

6. (가) 시대에 대한 설명으로 옳은 것은?

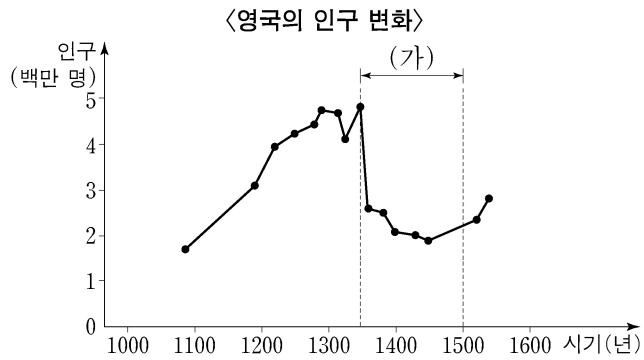


▲와카 모음집 『고킨와카슈』

(가)에는 견당사 파견이 중지되는 등 대외 관계의 변화와 맞물려 일본의 풍토와 관습에 맞는 문화가 귀족층 중심으로 발달하였다. 정형 시가인 와카(和歌)가 가나 문자로 쓰인 것이 하나의 사례이다. 훗날 국풍 문화라 불린 이 흐름은 (가)을/를 이은 막부 시대 문화에도 영향을 주었다.

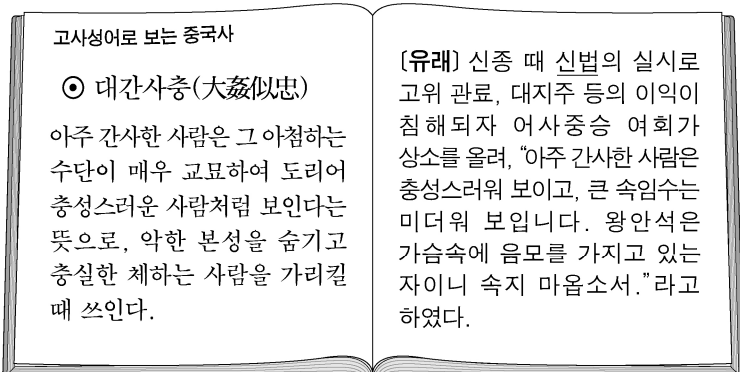
- ① 주인장을 발급하였다.
- ② 우키요에가 성행하였다.
- ③ 헤이안쿄를 수도로 삼았다.
- ④ 이와쿠라 사절단이 파견되었다.
- ⑤ 일본서기, 고사기가 저술되었다.

7. (가) 시기 유럽에서 볼 수 있는 모습으로 적절하지 않은 것은?



- ① 백년 전쟁에 종군하는 병사
- ② 아비뇽에서 미사를 집전하는 교황
- ③ 와트 타일러의 난에 가담하는 농민
- ④ 제4차 십자군 전쟁에 참여하는 기사
- ⑤ 장미 전쟁에서 왕위 계승권을 다투는 귀족

8. 밑줄 친 '신법'이 실시된 배경으로 가장 적절한 것은? [3점]



- ① 이갑제가 붕괴되었다.
- ② 금이 화북 지역을 장악하였다.
- ③ 몽골의 침입으로 전쟁 비용이 늘어났다.
- ④ 요, 서하의 위협으로 군사비 지출이 증가하였다.
- ⑤ 진승·오광의 난을 비롯한 반란이 각지에서 일어났다.

9. (가) 왕조에 대한 설명으로 옳은 것은?

자카리아스 교황 성하, 현재 (가)의 궁재이신 피핀께서 여쭙습니다. 실권이 없으면서 왕위에 있는 자와 왕위는 없으나 힘이 있는 자 중 누가 왕이어야 합니까?

실질적인 권한이 있는 자가 왕이 되는 것이 더 낫소. 사도의 권위로 피핀이 새 왕조를 여는 것을 승인하겠소.



- ① 베르됭 조약이 체결되었다.
- ② 로마 황제 대관식이 거행되었다.
- ③ 궁정 학교를 건립하는 등 문예 부흥을 일으켰다.
- ④ 투르·푸아티에 전투에서 이슬람 군을 격퇴하였다.
- ⑤ 롬바르드 왕국으로부터 빼앗은 영토를 교황에게 기증하였다.

10. (가), (나) 문서가 작성된 시기 사이에 발생한 사건으로 옳은 것만을 <보기>에서 고른 것은? [3점]

(가) 영국 의회는 아래 세금들을 징수하기로 하였다. 아메리카 식민지 법정에 제출하는 진술서, 소장, 답변서, 이의 신청서 등의 문서에 인지세 3펜스를 부과한다. …(중략)… 신문, 잡지, 소책자 등에 실린 각각의 광고에 2실링을 부과한다.

(나) 모든 인간은 평등하게 창조되었다. 그들은 창조주로부터 양도할 수 없는 권리를 부여받았고, 그중에는 생명, 자유, 행복을 추구할 권리가 포함되어 있다. …(중략)… 선량한 식민지 주민의 이름으로 우리는 이 식민지 연합이 자유롭고 독립적인 국가이며 그럴 권리가 있음을 엄숙히 선언한다.

—<보 기>—

- ㄱ. 렉싱턴 전투가 발생하였다.
- ㄴ. 보스턴 차 사건이 일어났다.
- ㄷ. 영국이 7년 전쟁에서 프랑스와 싸웠다.
- ㄹ. 워싱턴이 초대 대통령으로 선출되었다.

- ① ㄱ, ㄴ    ② ㄱ, ㄷ    ③ ㄴ, ㄷ    ④ ㄴ, ㄹ    ⑤ ㄷ, ㄹ

11. (가) 사상 주창자들의 주장으로 적절하지 않은 것은?

○ 볼테르 씨, 당신은 (가) 을/를 무기로 미신, 광신, 무지, 악폐 등과 같은 인류의 적에 대항한 투쟁을 시작하였습니다. 이러한 장애물을 극복하기 위해서는 대단한 성품과 덕성을 가져야 하는데, 당신은 그것들을 가지고 있음을 보여주었습니다.

○ 프랑스에서 (가) 을/를 제창한 베일, 폰트넬, 볼테르 등은 박학다식, 철학, 필력 등으로 이성의 무기를 갖추면서 진실을 위하여 투쟁하였다. 그들은 이성, 관용, 인간성 등을 투쟁 구호로 채택하였다.

- ① 왕의 권한은 신이 부여한 것이다.
- ② 입법·행정·사법권은 분리되어야 한다.
- ③ 국가는 사회 구성원의 계약에 의해 성립된다.
- ④ 지식의 집대성과 전파는 사회 진보에 기여한다.
- ⑤ 주권은 일반 의지의 행사이므로 결코 양도될 수 없다.

12. 밑줄 친 '법'이 제정된 시기를 연표에서 옳게 고른 것은? [3점]

인도 총독은 치안 유지를 명목으로 새로운 법안을 만들기 위한 위원회를 구성하였다. 롤렛 의장을 비롯한 위원들은 비밀 회합을 한 후, 혁명 활동 혐의자를 감시하고 처벌하는 내용의 법안을 제출하였다. 통과된 법에 따르면 단순 혐의만으로도 체포가 가능하였고 특별 법원은 피고를 배심원 없이 재판할 수 있었다.

(가)	(나)	(다)	(라)	(마)
플라시 전투 발발	세포이 항쟁 발발	인도 국민 회의 결성	벵골 분할령 발표	제1차 세계 대전 종전
				제2차 세계 대전 종전


- ① (가)    ② (나)    ③ (다)    ④ (라)    ⑤ (마)

13. 밑줄 친 '운동'의 전개 과정에서 제시된 주장으로 가장 적절한 것은? [3점]

이 글은 청조의 한인 관료 중국번, 이홍장 등이 주도한 근대화 운동의 논리를 제공한 책의 일부입니다.

왜 이 책을 쓰게 되었는가? 오랑캐를 이용하여 오랑캐를 공격하기 위해, 오랑캐를 이용하여 오랑캐와 화해하기 위해, 오랑캐의 장기(長技)를 배워 오랑캐를 제압하기 위해 썼다.

- 『해국도지』 -



- ① 청조를 몰아내고 공화국을 건설하자.
- ② 만주족을 멸하고 한족 왕조를 부흥하자.
- ③ 메이지 유신을 본받아 입헌 군주제를 도입하자.
- ④ 중국 전통 가치를 근본으로 서양 기술을 받아들이자.
- ⑤ 유교 폐단을 타파하고 서양 과학과 민주주의를 수용하자.

14. (가), (나)에 대한 설명으로 옳은 것은? [3점]

○ 교황의 주재로 3회기에 걸쳐 열린 (가) 은/는 면벌부를 사고파는 행위의 문제점을 확인하였다. 또한 (가) 은/는 교황의 권위를 재확인하고 세례와 미사의 중요성 및 사제의 독신 의무를 역설하는 한편, 라틴어 불가타 성경 외에 다른 언어로 번역된 성경을 인정하지 않기로 했다.

○ (나) 은/는 합스부르크가의 세습 영토를 제외한 신성 로마 제국 내 소수 종파의 사적인 예배 의식과 신앙의 자유를 허용하였다. 아울러 (나) (으)로 신성 로마 제국, 스웨덴, 네덜란드, 덴마크, 에스파냐, 프랑스 등이 참여하였던 30년간의 전쟁이 종식되었다.

- ① (가) - 칼뱅파를 인정하였다.
- ② (가) - 신교 확산에 대응하여 개최되었다.
- ③ (나) - 영국 국교회를 확립시켰다.
- ④ (나) - 종교 재판소를 설치하기로 하였다.
- ⑤ (가), (나) - 교회의 대분열을 종식시켰다.

15. (가) 지도가 제작된 왕조에서 있었던 사실로 옳은 것만을 <보기>에서 고른 것은?

세계 지도 백과

(가)

선교사 마테오 리치가 중국에서 제작한 지도로 전 세계를 5개 대륙으로 구분하여 한 도면에 타원형으로 나타내었다. 이 지도는 조선과 일본에도 전해져 동아시아 사람들의 세계 각지에 관한 지식을 확대함으로써 기존의 중국 중심 세계관에 충격을 주었다.

<보 기>

- ㄱ. 양명학이 등장하였다.
- ㄴ. 본초강목이 간행되었다.
- ㄷ. 동경몽화록이 저술되었다.
- ㄹ. 광수경 등이 수시력을 만들었다.

- ① ㄱ, ㄴ    ② ㄱ, ㄷ    ③ ㄴ, ㄷ    ④ ㄴ, ㄹ    ⑤ ㄷ, ㄹ

16. 다음 가상 편지에서 밑줄 친 '전쟁'의 결과로 옳은 것은? [3점]

친구여,  
러시아가 우리 제국을 위협하여 긴장이 고조되는 상황에서 이곳 빈을 포함한 유럽의 정치 엘리트들은 무력 충돌을 피할 수 없을 것으로 이미 예상했었다네. 한 달여 전 발칸의 테러리스트가 초래한 우리 황실의 비극으로 긴장은 더욱 증폭됐었지. 그리고 마침내 그 비극이 도화선이 되어 전쟁이 터졌다는 소식을 접했네. 이 전쟁은 사람들이 예상하는 것보다 훨씬 길어질 것 같은 암울한 예감이 드네. 격동의 시대에 그대의 안부를 걱정하며 글을 맺네.  
8월에 벗으로부터

- ① 북독일 연방이 결성되었다.
- ② 신성 로마 제국이 해체되었다.
- ③ 빌헬름 1세가 독일 제국을 선포하였다.
- ④ 러시아에서 피의 일요일 사건이 일어났다.
- ⑤ 독일이 해외 식민지에 대한 모든 권리를 상실하였다.

17. (가) 사건의 배경으로 가장 적절한 것은?

(가) 은/는 '무산 계급이 자산 계급 및 모든 착취 계급을 타도하는 정치 대혁명'이라고 선전되었으나, 이 주장은 어떤 근거도 없다. 이 혁명은 비록 문화라는 이름이 붙었지만, 문화·교육·과학의 발전에 대해 아무런 건설적 강령도 없이 비판과 파괴만 행하였을 뿐이다. ... (중략) ... (가) 은/는 당시 중국 공산당 중앙 주석이 발동하고 지도한 것이고 그의 잘못된 이론과 사상에 따라 진행된 것이다.

- ① 군벌 세력이 난립하였다.
- ② 대약진 운동이 실패하였다.
- ③ 제1차 국·공 합작이 결렬되었다.
- ④ 연안 도시에 경제 특구가 설치되었다.
- ⑤ 철도 국유화 반대 운동이 전개되었다.

18. 밑줄 친 '혁명'에 대한 설명으로 옳은 것은?

오스만의 압제에 짓눌려온 우리 국민은 어떠한 희생을 치르고서라도 그 멍에를 깨부수기로 결의하고 국민 의회의 이름으로 독립을 선언한다. 4세기 동안 튀르크인들은 이성과 정의를 짓밟았고 우리는 분연히 무기를 들었다. 유럽 크리스티교도와 동등한 존재로서 문명의 길로 나아가기를 희망하면서, 우리는 오스만 제국에 맞서 혁명에 나섰다. ... (중략) ... 펠로폰네소스 반도와 도서 지역의 주민들은 혁명의 진전에 필수적인 헌법 체제를 마련할 준비를 하였다.

- ① 블리바르가 주도하였다.
- ② 러시아의 지원을 받았다.
- ③ 프랑스 2월 혁명의 영향을 받았다.
- ④ 제1차 발칸 전쟁의 결과로 일어났다.
- ⑤ 청년 튀르크당의 무장 봉기에 자극 받았다.

19. (가), (나) 시기 사이에 있었던 사실로 옳은 것은?

(가) 홍해와 지중해를 잇는 운하가 프랑스인 페르디낭 드 레쎹스의 주도로 착공된 지 10년여 만에 개통되었다. 이로써 유럽과 인도를 오갈 때 남아프리카 아굴라스 곶을 돌아갈 필요가 없어서 항해 시간이 크게 단축되었다.  
(나) 프랑스 원정대는 가봉에서 동쪽으로 진격했고 영국 군대는 이집트에서 나일 강을 따라 남하하였다. 프랑스군이 먼저 파쇼다에 도착해 요새를 점령했지만 곧 영국군의 도전을 받아 몇 달간 긴장이 지속되었다.

- ① 프랑스가 프랑스령 인도차이나 연방을 수립하였다.
- ② 한반도와 만주의 이권을 두고 러·일 전쟁이 발발하였다.
- ③ 영국과 러시아의 간섭으로 이란 입헌 혁명이 실패하였다.
- ④ 프랑스와 독일의 대립으로 제1차 모로코 사건이 발생하였다.
- ⑤ 영국과 프랑스가 중국을 상대로 제2차 아편 전쟁을 일으켰다.


20. 교사의 질문에 대한 학생의 답변으로 가장 적절한 것은? [3점]

**자료로 보는 일본 제국주의 침략의 역사**

황국의 국시는 팔괘일우(八紘一宇)의 건국 정신에 따라 일본, 만주, 중국의 강고한 결함을 통한 대동아의 신질서를 건설함에 있다. ... (중략) ... 황국의 외교는 우선 그 중점을 중국과의 전쟁 완수에 두는 한편, 앞으로의 국제적 변화를 잘 살펴 국운의 진전을 기한다.

- 일본 내각 결의문 -

진주만 공습 1년여 전에 작성된 이 결의문의 내용처럼, 실제로 군국주의 일본은 국제적 변화를 틈타 제국주의 침략을 확대하게 됩니다. 이 결의 이후 발생한 국제적 변화에는 어떤 것이 있나요?



- ① 독일이 소련을 침공하였습니다.
- ② 독일이 오스트리아를 합병하였습니다.
- ③ 영국과 프랑스가 독일에 선전 포고를 하였습니다.
- ④ 독일, 이탈리아, 일본이 방공 협정을 체결하였습니다.
- ⑤ 프랑코의 반란으로 에스파냐에서 내전이 발발하였습니다.

\* 확인 사항  
○ 답안지의 해당란에 필요한 내용을 정확히 기입(표기)했는지 확인 하시오.